




# Весёлые домашние задания

Детям  
**6-7**  
лет

Развиваем:  
моторику,  
логику,  
воображение,  
нестандартное  
мышление,  
счёт,  
внимание



Зачеркни лишнее.



Реши примеры.

$$5 + \text{flower} = 11$$

$$\text{flower} + 10 = 20$$

$$\text{flower} - 3 = 11$$

$$12 - \text{flower} = 10$$

Запиши счёт двойками до десяти.


2 4

Сколько ушей у трёх малышек?




\_\_\_\_\_

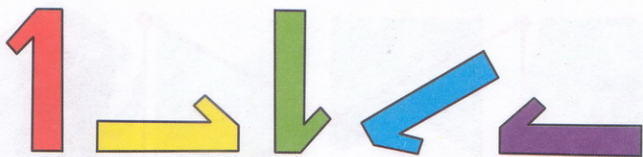
Покажи 8 треугольников.




Соедини стрелочками фигуру и её тень.



Зачеркни лишнюю единицу.



Реши примеры.

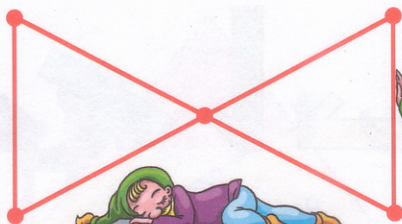


Запиши обратный счёт двойками.



10 8

Сколько дней в неделе?


Покажи 8 отрезков.




Волшебное зеркало меняет цвет и форму фигур.  
Нарисуй, что каждая фигура видит в зеркале.



Зачеркни лишнюю фигуру.



Догадайся, какие числа художник забыл на лепестках? Нарисуй их.



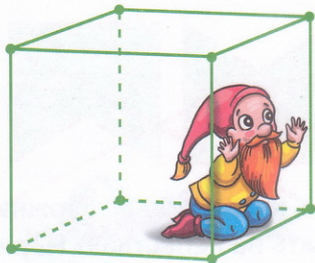
Запиши счёт тройками до 12.

\_\_\_\_\_

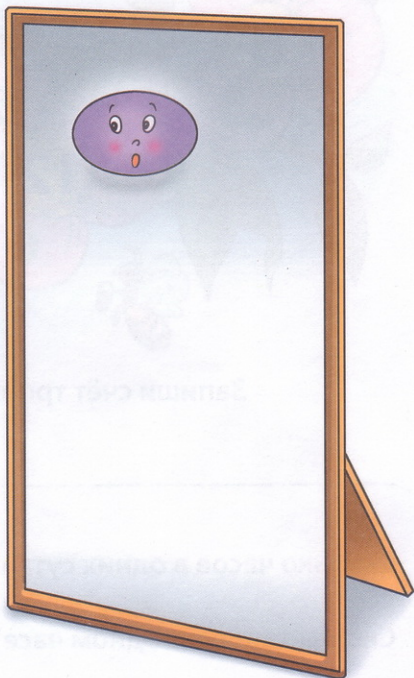



Сколько часов в одних сутках? \_\_\_\_\_

Сколько минут в одном часе? \_\_\_\_\_

Сколько у куба вершин? Ребер? Граней?



Волшебное зеркало меняет цвет и величину фигур.  
Нарисуй, что каждая фигура видит в зеркале.



Зачеркни лишнее.



Реши примеры.




Запиши счёт десятками до 100.

---


---

На верёвке завязали 10 узлов. Нарисуй их.  
На сколько частей эти узлы разделили верёвку?







Сколько кубиков нужно взять, чтобы  
выложить такую фигуру?




Раскрась одним цветом фигуру и её вид сверху.



Зачеркни неправильные часы.



Реши.




Запиши чётные числа до 20.

Из Васиного кармана выпрыгнули две лягушки, а три остались сидеть в кармане. Сколько всего лягушек сидело в Васином кармане?




Сколько кубиков нужно взять, чтобы собрать такую фигуру?



Раскрась все пирамидки красным, зелёным и синим цветами, чтобы не было двух одинаковых пирамидок.




Какие предметы имеют форму цилиндра?



Зачеркни лишнее число.

2 4 6 7 8 10 12

Соедини примеры с одинаковыми ответами.




Запиши нечётные числа до 10.

Сколько нужно орешков, чтобы раздать трём белочкам по два орешка?




Сколько кубиков нужно взять, чтобы  
выложить такую фигуру?



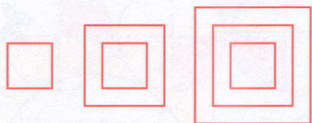
Ответ:



Раскрась рыбок красным, зелёным и жёлтым  
цветами так, чтобы тело и хвост были  
разных цветов и все рыбки были разными.



Продолжи ряд.



Расставь числа, чтобы в сумме получилось 10.

5		2	=10
	4	1	=10
			=10


=10 =10 =10



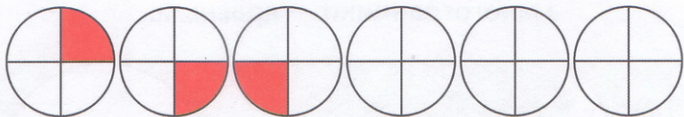
Запиши все двузначные числа, которые можно составить из цифр 1 и 2.

Сколько всего времён года? Запиши их названия.

Объёмные фигуры раскрась красным цветом,  
а плоские — синим.



Продолжи ряд.




Расставь числа, чтобы в сумме получилось 10.



		4	=10
7	2		=10
	5		=10
			=10

Запиши порядковый счёт от 10 до 20.





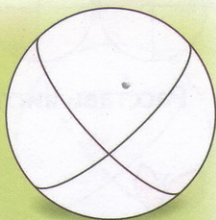


У Кати были матрёшки. 4 матрёшки она собрала и убрала в сумочку, а две оставила. Сколько всего матрёшек у Кати?



Ответ: \_\_\_\_\_ .



Тела вращения раскрась жёлтым цветом,  
а многогранники — красным.



# Весёлые домашние задания

для детей



Рисовала **О. Самсонова**  
Составитель **М. Султанова**

8Рц5\_4612

Книжка-раскраска

«Весёлые домашние задания для детей 6-7 лет».

ООО «Хатбер-пресс», 123056 г. Москва, ул. Грузинский вал, д. 29.

Формат 70x100 1/16. Бумага офсетная. Печать офсетная.

Подписано в печать 30.03.07. Доп. тираж.

СЭЗ № 50.99.05.963.П.016995.12.07. ГОСТ 25779-90

Изготовлено ООО «Хатбер-М»,

117545 Москва, ул. Подольских Курсантов, д. 3, стр. 2.

Лицензия ИД № 00146

Оптовая продажа: (495) 925-1108, 268-3511.

© ООО «Хатбер-пресс», 2007 г.

ISBN 978-5-375-00096-1



9 785375 000961



АИ84